

EN ESTA TABLA NUMÉRICA FALTAN MUCHOS NÚMEROS.

✦ ESCRIBÍ DONDE CORRESPONDEN ESTOS NÚMEROS: 57 – 31 – 79 – 80 - 40 - 15

	1	2		4	5				9
10	11	12							19
	21	22	23			26			
30			33				37	38	
				44					
		52				56			59
							67		
							77	78	
					85			88	
					95				99
100									


✦ TAMBIEN ANOTA EN LA TABLA LOS NUMEROS QUE SACARON ESTOS CHICOS




✦ CON OTRO COLOR COMPLETA LA TABLA NUMÉRICA CON TODOS LOS NÚMEROS QUE VOS QUIERAS

ORDENAMOS EL DESORDEN.

- ✦ EN ESTE JUEGO TODAS LAS BOLILLA SE DESORDENTARON, TE ANIMAS A ORDENARLAS DE MENOR A MAYOR



- ✦ EN ESTE SE PERDIERON LAS BOLILLA LAS QUE IBAN ANTES Y DESPUES. LAS PODES ENCONTRAR



ESCRIBIMOS EL NOMBRE DE LOS NÚMEROS

- ✦ ESCRIBÍ EL NÚMERO O SU NOMBRE SEGÚN CORRESPONDA EN EL CUADRO

	DOCE
15	
	VEINTITRES
27	
	TREINTA Y CINCO
32	

VAMOS DE COMPRAS

JUQUEMOS A LA JUGUETERIA, NOSOTROS SOMOS LOS VENDEDORES Y PEDRO, MARTIN Y SOFIA VIENEN A COMPRAR JUGUETES CON SUS AHORROS.

✦ MIRA CON ATENCIÓN LA VIDRIERA Y ESCRIBÍ



○ ¿QUE JUGUTES HAY?




○ ¿CUÁL ES EL MAS BARATO, EL QUE SALE MENOS, Y CUAL ES EL MAS CARO, EL QUE SALE MAS?

AQUÍ LLEGAN PEDRO, MARTIN Y SOFIA CON TODOS SUS AHORROS, LES AYUDAMOS A CONTAR CUANTO DINERO TIENEN.

✦ MIRA CON MUCHA ATENCIÓN EL DIBUJO Y SUMA LOS BILLETES DE CADA UNO. ESCRIBÍ EN EL RECUADRO CUANTO TIENE CADA UNO. SI NECESITAS PEDI AYUDA A ALGUIEN DE TU CASA.



✦ COMPLETA ESTE CUADRO CON LA CANTIDAD DE PLATA QUE TIENE CADA UNO

		
\$	\$	\$


✦ ¿QUIÉN TIENE MAS DINERO PEDRO O SOFIA?

✦ ¿QUIÉN TIENE MENOS DINERO MARTIN O PEDRO?

✦ PEDRO COMPRÓ LAS PALETAS DE PING PONG ¿QUÉ BILLETES USO? ¿LE QUEDO VUELTO?



✦ MARTÍN QUIERE COMPRAR LOS CUBOS Y EL TROMPO ¿LE ALCANZA LA PLATA? ¿QUÉ BILLETES TENDRA QUE USAR?



✦ SOFÍA COMPRÓ LA MUÑECA PARA SU HERMANA ¿LE SOBRA PLATA PARA IR AL KIOSCO? ¿QUE BILLETES USÓ?



CUENTAS QUE SE HACEN RÁPIDO

HAY CUENTAS QUE SE HACEN RAPIDO PORQUE LA SUMA DA UN NÚMERO FACIL COMO 10 O NUMEROS TERMINADOS EN 0, O PORQUE SOLO SUMAMOS O RESTAMOS UNO.

✦ PRESTA ATENCIÓN A ESTAS VAS A VER QUE SON FACILES Y RAPIDAS. LA PRIMERA LA HAGO YO.

SUMAS QUE DAN 10
$8 + 2 = 10$
$5 + \underline{\quad} = 10$
$\underline{\quad} + 1 = 10$
$\underline{\quad} + \underline{\quad} = 10$
$3 + \underline{\quad} = 10$
$\underline{\quad} + \underline{\quad} = \underline{\quad}$

MAS 1 Ó MENOS 1
$45 + 1 = 46$
$36 - 1 = \underline{\quad}$
$12 - 1 = \underline{\quad}$
$23 - 1 = \underline{\quad}$
$52 + 1 = \underline{\quad}$
$\underline{\quad} + \underline{\quad} = \underline{\quad}$

SUMAS DE NUMEROS "REDONDOS"
$15 + 15 = 30$
$\underline{\quad} + \underline{\quad} = 40$
$25 + \underline{\quad} = \underline{\quad}$
$\underline{\quad} + \underline{\quad} = 10$
$80 + \underline{\quad} = 90$
$\underline{\quad} + \underline{\quad} = \underline{\quad}$

RESTA DE NÚMEROS "REDONDOS"
$45 + 1 = 46$
$36 - 1 = \underline{\quad}$
$12 - 1 = \underline{\quad}$
$23 - 1 = \underline{\quad}$
$52 + 1 = \underline{\quad}$
$\underline{\quad} + \underline{\quad} = \underline{\quad}$

PARA PENSAR

- ✦ MARTINA TIENE UNA COLECCIÓN DE CUENTOS DE HADAS DE 25 LIBROS Y JOAQUÍN UNO DE PIRATAS DE 18 LIBROS. ¿CUÁNTOS LIBROS TIENEN ENTRE LOS DOS?

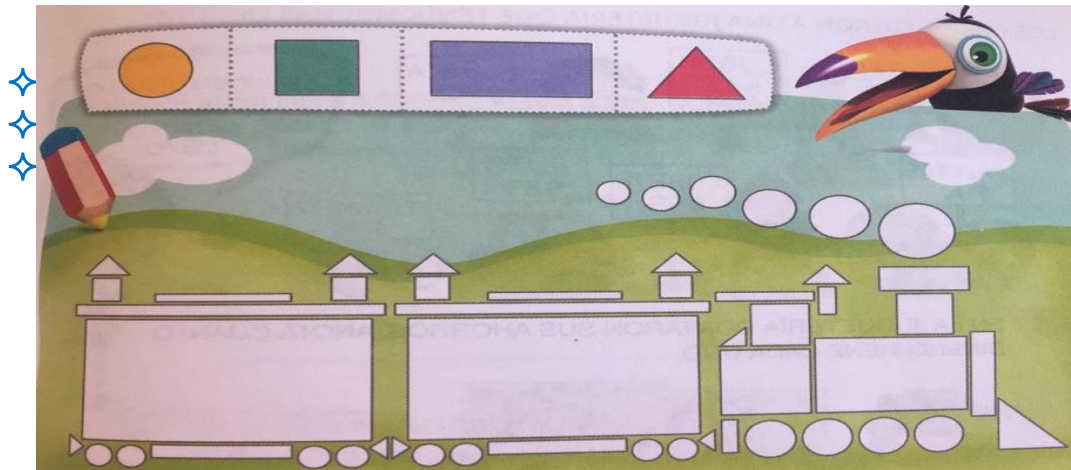
- ✦ SI JOAQUÍN LEYÓ 10 LIBROS DE SU COLECCIÓN, ¿CUÁNTOS LE FALTA LEER?

- ✦ SOFÍA TIENE 12 LIBROS DE DINOSAURIOS Y SU MADRINA LE REGALÓ 32 LIBROS. ¿CUÁNTOS TIENE EN TOTAL?

- ✦ MARISA TIENE 33 LIBROS EN SU BIBLIOTECA, PERO DONARÁ 18 A SU ESCUELA. ¿CUÁNTOS LIBROS QUEDARÁN EN SU BIBLIOTECA?

FIGURAS Y CUERPOS

✦ PINTAMOS CADA FIGURA CON EL COLOR QUE SE INDICA EN EL MODELO



✦ OBSERVAMOS LAS FIGURAS. UNI CON FLECHAS

LA FIGURA CON 4 LADOS IGUALES ES UN

LA FIGURA CON 3 LADOS IGUALES ES UN

LA FIGURA CON UN SOLO LADO CURVO CERRADO ES UN

LA FIGURA DE CUATRO LADOS CON DOS LADOS IGUALES

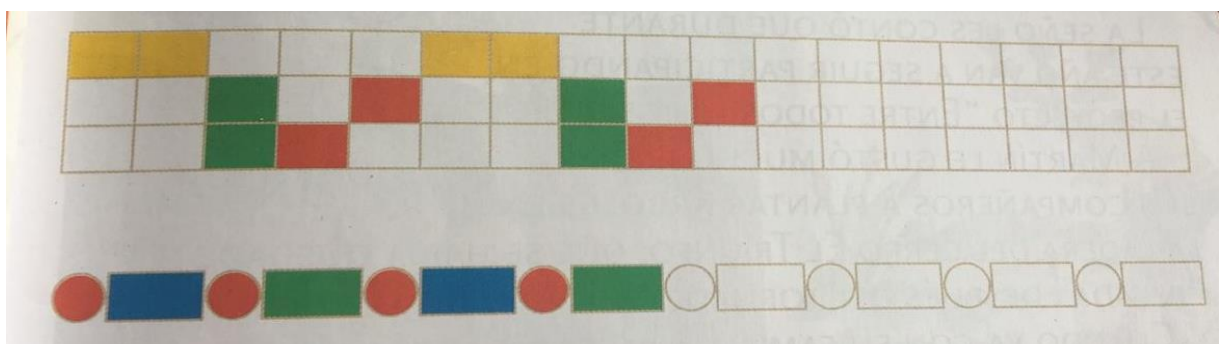
TRIANGULO

CIRCULO

RECTANGULO

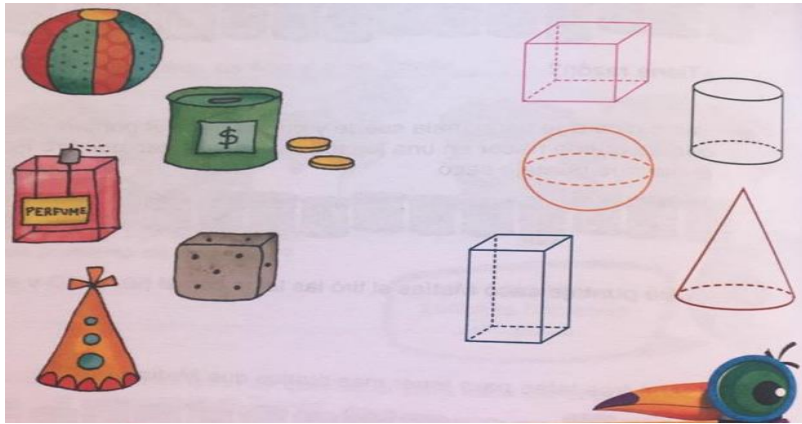
CUADRADO

✦ EN LA SIGUIENTES GUARDAS HAY UN MODELO QUE SE REPITE ¿CÚAL ES? DESPUES DE ENCONTRARLOS, TE ANIMAS A COMPLETARLA PINTANDO LAS FIGURAS

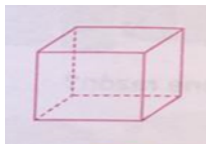


MIENTRAS CARLA ORDENABA SU CUARTO, NOTO QUE ALGUNOS OBJETOS SE PARECEN A CUERPOS GEOMÉTRICOS

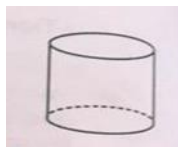
✦ UNÍ CADA CUERPO GEOMÉTRICO CON EL OBJETO DE FORMA PARECIDA



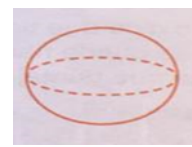
¿QUERES SABER LOS NOMBRES DE LOS CUERPOS GEOMÉTRICOS?
SE LLAMAN ASI:



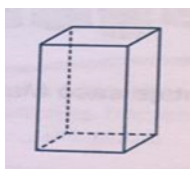
CUBO




CILINDRO



PELOTA



PRISMA



CONO

✦ HACE COMO CARLA, BUSCA EN TU CASA OBJETOS QUE SE PAREZCAN A LOS CUERPOS. TE ANIMAS A DIBUJARLOS Y PONER EL NOMBRE DEL CUERPO AL QUE SE PARECEN

EXCELENTE MUY BIEN!!! LOGRASTE LLEGAR HASTA EL FINAL!!!