

CIENCIAS SOCIALES - ACTIVIDADES de 4° Período Especial

Nombre: _____ Fecha: _____



¡HOLA! ¿CÓMO ESTÁS? ESPERO QUE ESTES BIEN.
TE PREPARÉ UNA CARTILLA PARA APRENDER.
ESPERO QUE TE GUSTE. ¿COMENZAMOS? ¡DALE!

FORMAS DE ORGANIZACIÓN POLÍTICA: NACIÓN, PROVINCIA, MUNICIPIO

- ✦ Si te pregunto ¿en qué **PAÍS** vivimos? Vos me contestas
- ✦ Si te pregunto ¿en qué **PROVINCIA** vivimos? Vos me decís
- ✦ Si te pregunto ¿en qué **DEPARTAMENTO** vivís? Vos me decís
- ✦ Y a qué **MUNICIPIO** pertenece ese departamento? ¿sabes?

Quiere decir que vos vivís en la LOCALIDAD de , en el
MUNICIPIO del DEPARTAMENTO
que se encuentra en la PROVINCIA de de la
REPÚBLICA

Muy bien!!!

- ✦ Mira estos titulares de los diarios, son noticias que salieron estos días en relación al coronavirus. Lee con atención

Esta es una noticia que publicó el Diario PAGINA 12, el día 30 de marzo de 2020. La leí en esta dirección de internet: <https://www.pagina12.com.ar/256225-coronavirus-alberto-fernandez-anuncio-que-sigue-la-cuarentena>



- ✦ Conversemos sobre esta noticia

- ¿Sabes quién es Alberto Fernández?

- ¿Podes identificar qué decisión tomo?

- ¿Con quiénes hablo por teleconferencia? ¿Por qué hablo con ellos?

- ¿Dónde se tiene que cumplir la decisión que tomo el Presidente de la Nación?

Ahora mira con atención esta noticia que publicó el Diario EL ANCASTI, el día 30 de marzo de 2020. La leí en esta dirección de internet:

<https://www.elancasti.com.ar/politica-economia/2020/3/30/jalil-conforme-con-la-extension-de-la-cuarentena-430357.html>

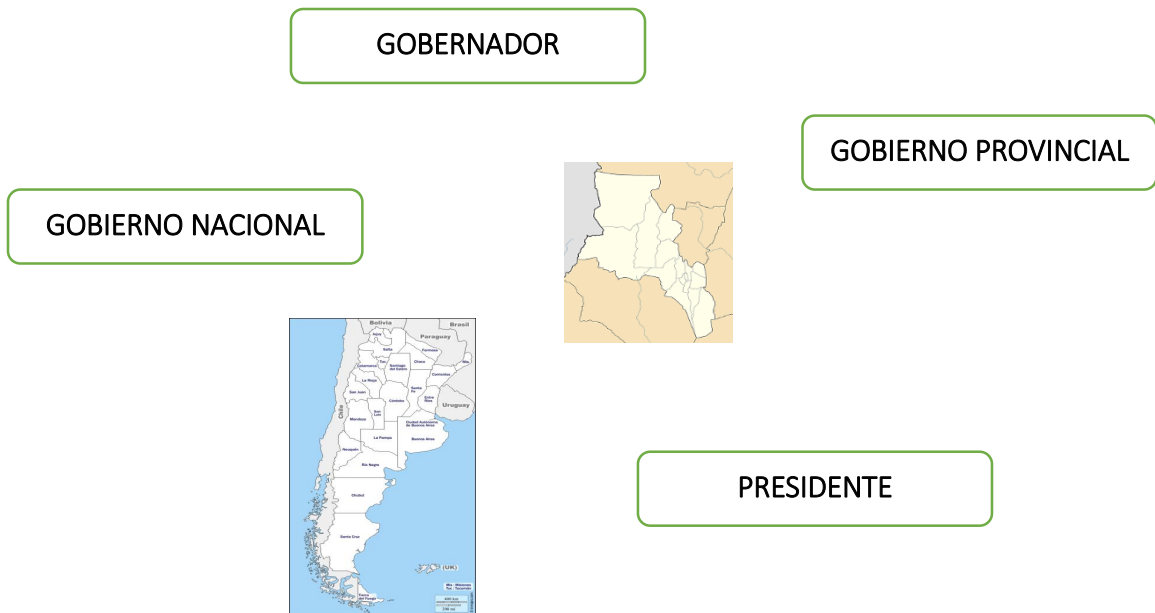


- ¿Sabes quién es Raúl Jalil?

- ¿Tomo en cuenta la decisión del Presidente de la Nación sobre la extensión de la cuarentena? ¿Por qué lo hizo?

- ¿Dónde se tiene que cumplir la decisión que tomo el Gobernador de la Provincia?

- ✦ Actividad: Algunas conclusiones - Uní con flechas lo que corresponda

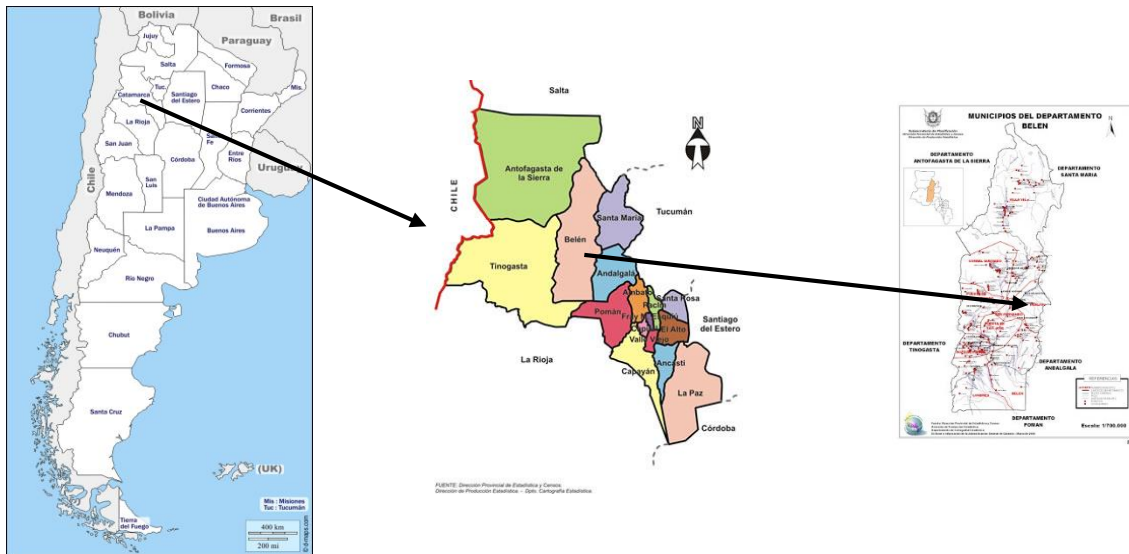


La República Argentina es un país federal, eso quiere decir que está organizado política y administrativamente con tres niveles de gestión: **NACIONAL, PROVINCIAL Y MUNICIPAL.**

- ✦ Observa atentamente el siguiente esquema:



✦ Observa atentamente el siguiente ejemplo:



NACIÓN



Presidente

PROVINCIA



Gobernador

MUNICIPIO



Intendente

Podrías decir con tus palabras ¿cuál es la relación entre la NACIÓN, LAS PROVINCIAS Y LOS MUNICIPIOS?


Para conocer el MUNICIPIO en que vivís (Si no sabes preguntale a alguien de tu familia)

- ¿En qué municipio vivís? ¿En qué departamento queda?

- ¿Cómo se llama el intendente? ¿Lo conoces?

- ¿Qué acciones realizó en tu comunidad?

- Realiza un dibujo de tu comunidad y tu municipio para que lo podamos conocer



CATAMARCA EN ARGENTINA

✧ Observa con atención el mapa de la Argentina



Sabías que los **MAPAS POLÍTICOS** nos permiten ver la organización administrativa y política de un territorio. Allí podemos identificar las Naciones, las Provincias, los Municipios

Sabías que la ARGENTINA se encuentra ubicada en el continente americano, en lo que se denomina AMERICA DEL SUR, y lo que estás viendo en el mapa de la página anterior, es la zona sur de América del Sur.

Están ubicados allí otros países que limitan con Argentina. Podrías decir cuáles son y ubicarlos:

ESTE

NORTE

OESTE

✧ Ahora mira el mapa con mucha atención y completa las frases.

■ Al oeste la Argentina limita con

■ La Argentina está dividida en

■ En total son

provincias.

■ La provincia que se encuentra ubicada al sur se llama

■ Las provincias ubicadas al norte que limitan con Bolivia se llaman

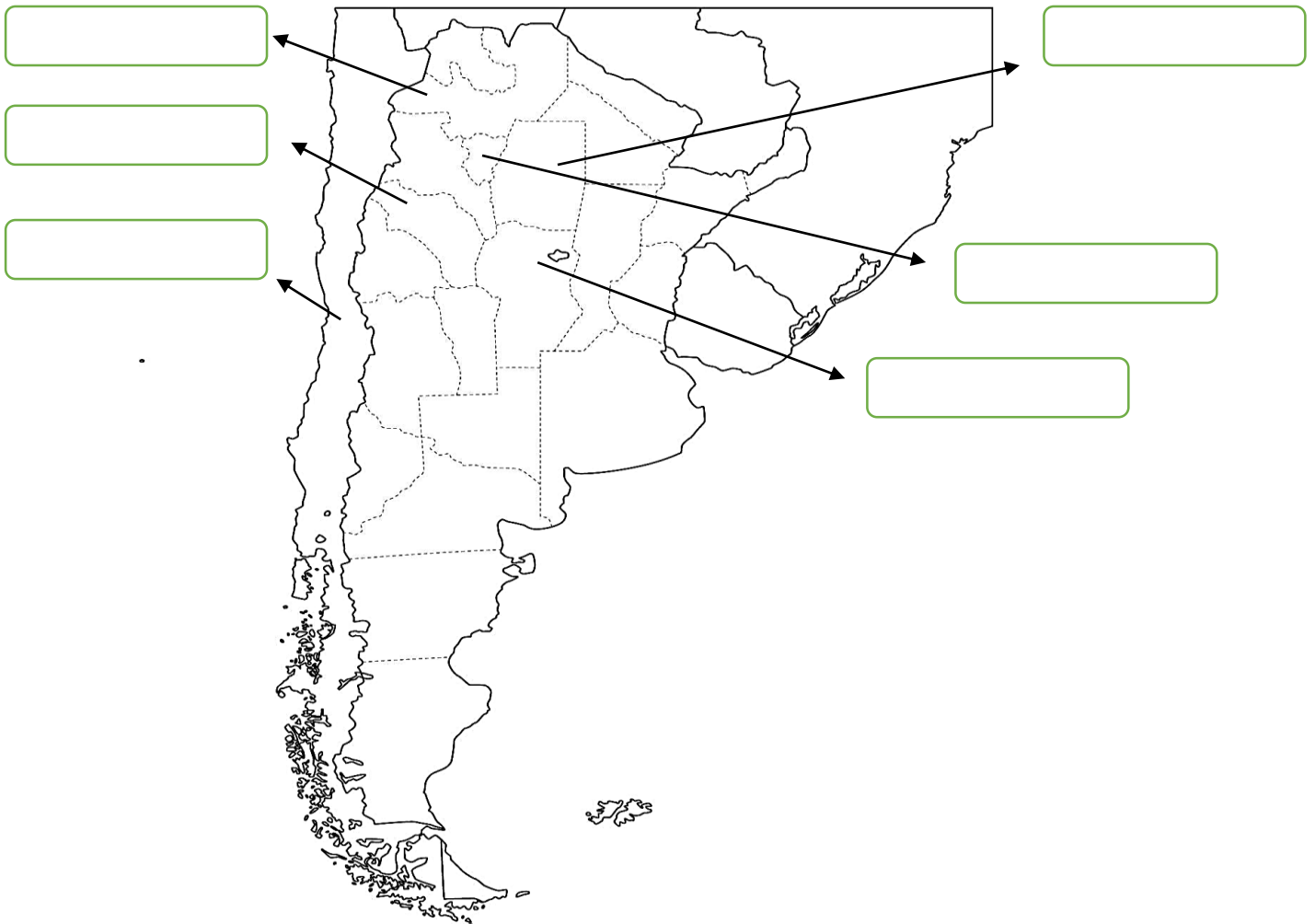
Y

■ Las provincias que tienen salida al Océano Atlántico se llaman

y

✧ Observá con atención este mapa que está en blanco y resolvé:

- Pinta con color la Provincia de CATAMARCA
- Completa con los nombres correspondiente los recuadros



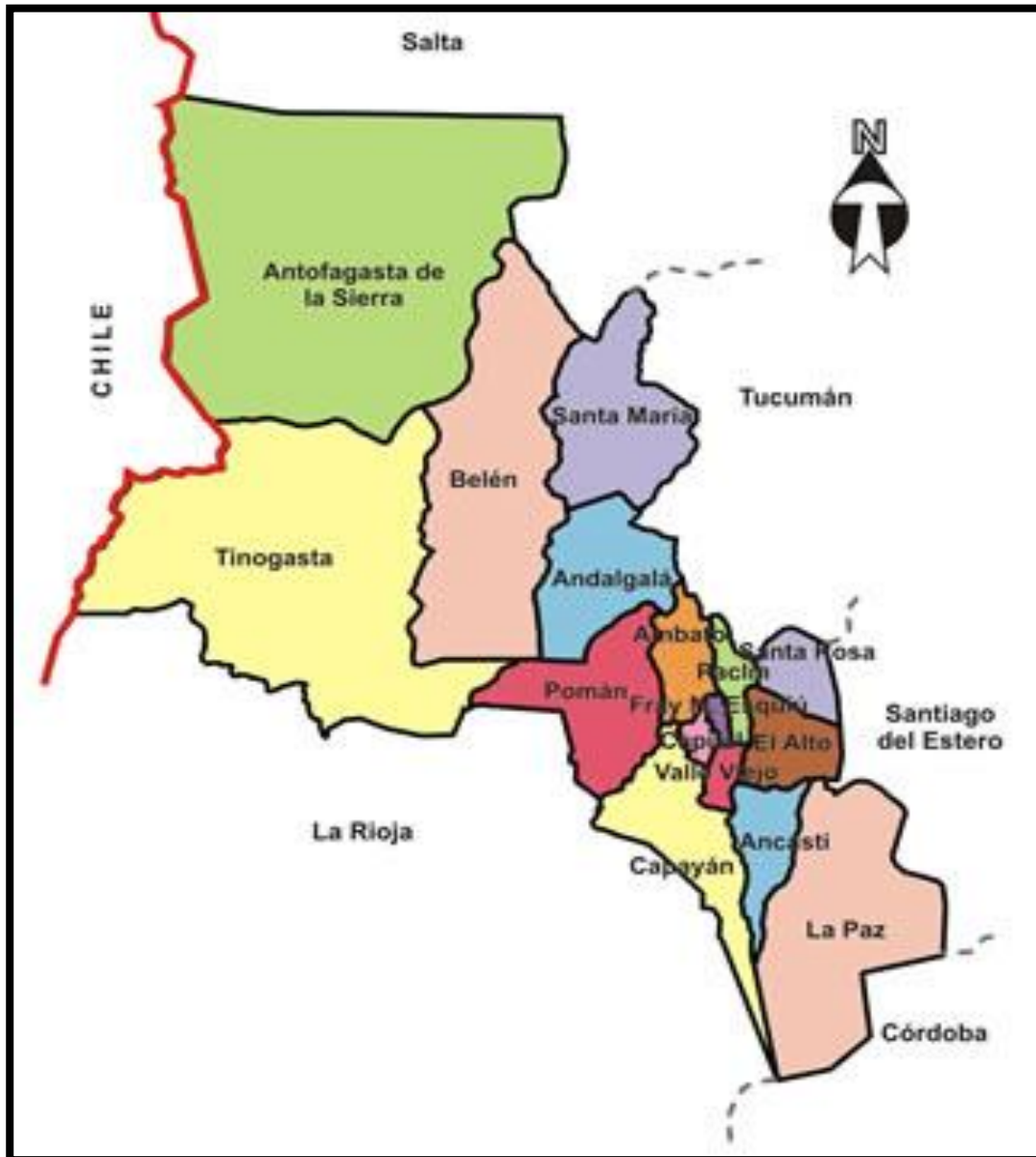
¿Sabías que cada provincia tiene un territorio que limita con el de otra provincia? Y en el caso de Catamarca con otro país. Fijate en este mapa y responde:

- ¿Cuáles son las provincias que limitan con Catamarca?

¿Cuál es el país que limita con Catamarca hacia el oeste?

DIVISIÓN POLITICA DE CATAMARCA.

✧ Lee con atención este mapa



✧ Responde:

- ¿Qué tipo de mapa es? ¿Cómo lo sabes?

- ¿Qué información nos brinda?

Te animas a hacer una lista con el nombre de todos los departamentos de la Provincia de Catamarca. Yo pongo el primero

Antofagasta de la Sierra	

- ¿Cuántos departamentos son en total?

- ¿En qué Departamento vivís ? ¿Fuiste de viaje a algún otro? ¿Cuál?

- ¿Cuál te gustaría conocer? ¿Por qué?

✧ Observá con atención este mapa

- Ubica el departamento donde vivís y pintalo con color
- Señalá con que departamentos limita, agregale los nombres
- Pinta el departamento que te gustaría conocer.

(si te hace falta ayúdate con el mapa de Catamarca que está en la pagina anterior)



REGIONES GEOGRÁFICAS DE CATAMARCA.

La provincia de Catamarca se divide en cuatro regiones. En cada región se agrupan los departamentos que poseen algunas características similares, como por ejemplo, el clima, sus características geográficas, la actividad productiva.

- ✧ Observa con atención este mapa de los Cazadores de Tormentas, que señalan las regiones



- ¿En cuántas regiones se divide la provincia de Catamarca?

Muy bien, se divide en 4 regiones mira:

REGIÓN DE LA PUNA

Está integrada por el departamento Antofagasta de la Sierra casi en su totalidad, y una pequeña porción del norte del departamento Belén.

REGIÓN DEL OESTE

Está formada por los departamentos Santa María, Belén, Tinogasta, Andalgalá y Pomán.

REGIÓN CENTRO

Integrada por los departamentos Capital, Ambato, Fray Mamerto Esquiú, Paclín, Valle Viejo y Capayán.

REGIÓN ESTE

Abarca los siguientes departamentos: El Alto, Santa Rosa, Ancasti y La Paz.

- ¿La localidad donde vos vivís, en qué región se encuentra ubicada?

- ¿Podrías describir las características de la región en que vos vivís?

¡Qué lindo vamos llegando al final!, solo quedan dos preguntas:

¿Qué fue lo que te gustó más aprender en esta cartilla?

¿Qué fue lo que te resultó más difícil?

FELICITACIONES! ¡LO LOGRASTE!

